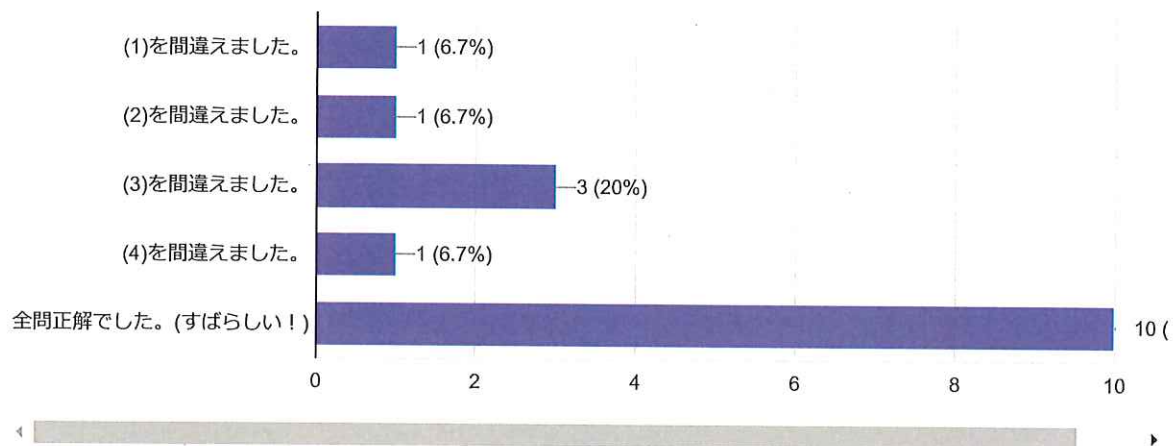



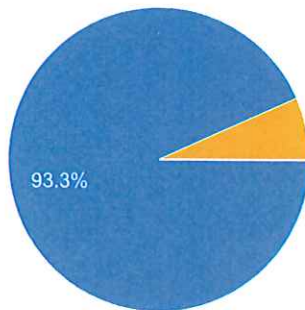
「問1 次の連立方程式を解け。(片方の式を何倍かする)」の結果を答えて下さい。(複数回答可)



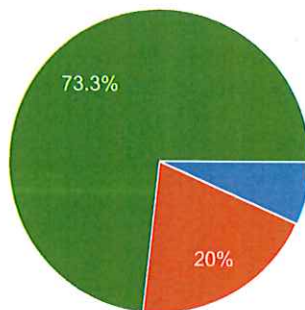
「問2 次の連立方程式を解け。(両方の式を何倍かする)」の結果を答えて下さい。(複数回答可)




例1、例2について



- 例1、例2ともに分かりやすかったです。(ありがとう！)
- 例1は分かりやすかったが、例2は分かりにくかったです。(ごめん)
- 例1は分かりにくかったが、例2は分かりやすかったです。(ごめん)
- 例1、例2ともに分かりにくかったです。(すみません)



- ア
- イ
- ウ
- エ



- ア
- イ
- ウ
- エ